








## JUGA A FER CURSES

Hi ha 5 camells que fan una cursa, i guanya el que al final obté un resultat més alt. Per saber quin és el camell guanyador, has de resoldre totes les operacions i sumar els diferents resultats.

11

1	2	3	4	5
				
122-100	496-396	675-175	356-246	237-107
343-343	666-366	312-212	784-384	866-566
625-425	250-50	825-625	963-863	743-543
812-512	873-873	495-485	417-317	645-645
863-700	614-500	217-17	245-245	382-182

Quin és el camell guanyador?